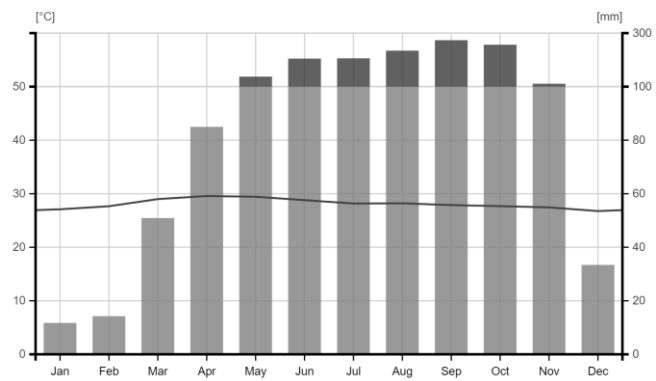


一、選擇題 (1-22 題 4 分，23-28 題 2 分)

- ()01、馬爾地夫是一個由眾多島嶼組成的國家，被譽為上帝灑落人間的珍珠項鍊，屢次在旅遊雜誌中評選為此生必去的景點之一。有關該國家的敘述，何者正確？
(A)位於太平洋 (B)鄰近中南半島 (C)多火山、地震 (D)低海拔的珊瑚環礁
- ()02、自 19 世紀後期開始，中國開始出現大規模移民至東南亞的情形，稱為「下南洋」。若從廣東沿海一帶乘船出發，在何時出航可順風而行？
(A)2 月 (B)5 月 (C)7 月 (D)9 月
- ◎十八世紀時，婆羅洲西部招募華人苦力採礦，為求自保，當地的客家人組織起具有防衛武力且紀律嚴明的「公司」，其中又以「蘭芳公司」的聲勢最大。1777 年，蘭芳公司改制為蘭芳大統制共和國，與附近礦場場主、蘇丹（國家統治者）國結成聯盟，負責區域保安工作並協調各族群之間的糾紛。1884 年，來自歐洲的勢力征服蘭芳共和國，殘餘部眾往西北遷至棉蘭，其後輾轉到吉隆坡定居，結束這段歷時百年的客家移民奮鬥史。請參考圖（一），回答 3-5 題：
- ()03、蘭芳共和國位在現今哪一國家？
(A)泰國 (B)印尼 (C)新加坡 (D)菲律賓
- ()04、在蘭芳共和國工作的客家人較不可能遇見何種景象？
(A)高低成層的雨林 (B)午後常見對流雨 (C)隨處可見的麥田 (D)往返南海的船隻
- ()05、有關蘭芳共和國的興起與滅亡，以下推論何者正確？
(A)當時礦產資源以石油為最大宗 (B)西班牙人入侵後並開啟殖民統治
(C)鄰近的蘇丹國以佛教信仰為主 (D)殘餘勢力往麻六甲海峽方向遷移



圖（一）



圖（二）

- ()06、季風亞洲範圍廣大，請判斷圖（二）的氣候資料，與下列何地最為相似？
(A)中南半島 (B)朝鮮半島 (C)日本群島 (D)東印度群島
- ()07、信奉伊斯蘭教的信徒稱為穆斯林，表（一）是穆斯林人口數最多的五個國家，甲國應為何者？
(A)印尼 (B)越南 (C)菲律賓 (D)斯里蘭卡

表（一）

國家	穆斯林人數(億)	佔該國總人口比例(%)
甲	2.41	86.8
巴基斯坦	2.25	96.6
印度	2.11	14.6
孟加拉	1.55	90.9
奈及利亞	1.11	48.5



圖（三）

- ()08、沙嗲(sate)是東南亞代表性美食之一（圖三），通常會以薑黃為主的調料醃製肉片或肉塊，再以竹籤串起來燒烤。來自中國華南的移民將沙嗲醬加以改良後，成為沙茶醬最早的起源。以下哪一地的沙嗲較不會使用豬肉？
(A)泰國－普吉島 (B)印尼－峇里島 (C)菲律賓－呂宋島 (D)馬來西亞－沙巴
- ()09、承上題，沙嗲醬裡所使用的棕櫚油，其原料作物的生長環境為何？
(A)夏熱冬寒，夏雨冬乾 (B)年溫差小，高溫多雨 (C)地勢高聳，夏季涼爽 (D)年溫差大，乾燥少雨

- () 10、熱帶栽培業為東南亞在殖民時期的重要產業，以出口為導向的經濟型態，對當地造成何種影響？
 (A)大規模機械耕作 (B)種植糧食作物為主 (C)港口發展快速，人口集中 (D)自產自銷，市場風險較低
- () 11、「世界銀行 (World Bank) 日前公布報告顯示，儘管全球經濟面臨困境，但 2023 年越南經濟增長率仍有望達 6.3 %。商辦租賃業者透露，首都河內即將迎來多家知名連鎖飯店，預計打造全新的奢侈品購物中心，吸引眾多國際精品進駐。」——以上節錄自中時新聞網 (<https://ppt.cc/fMQcpx>)。有關上述新聞的解讀，以下何者正確？
 (A)越南總人口數破億，勞動力充足 (B)越南經濟成長快速，消費需求大增
 (C)越南製造業發達，成為世界工廠 (D)越南鄰近中國，吸引大量投資建設
- ◎東南亞國家協會(ASEAN)第 43 屆高峰會於 2023 年 9 月 5 日登場，東南亞國家領導人齊聚印尼進行會談，聚焦於緬甸危機和中國在南海日益專斷行為等問題。專家學者指出，如果沒有強有力的直接干預，東協幾乎無能為力，無法幫助解決緬甸的內部衝突。另一方面，東協國家領袖將對爭議海域的「填海造陸事件」表達關切，並指出此舉加劇緊張局勢，會破壞該地區和平、安全和穩定的行動。請回答 12-14 題：
- () 12、參考圖 (三)，第 43 屆東協高峰會的舉辦地點為下列何者？
 (A) (6.1°S, 106.8°E) (B) (13.7°N, 100.5°E) (C) (24.9°N, 121.3°E) (D) (34.6°N, 135.4°E)
- () 13、甲國和緬甸有長達 2,000 公里的邊境接壤，緬甸問題會影響其邊境貿易和投資。因此，甲國曾單方面與緬甸軍政府商討。請問甲國位在圖 (三) 何處？
 (A)A (B)B (C)C (D)D
- () 14、高峰會後的聯合聲明提到「我們重申需要增強互信，並在進行任何導致爭端複雜化或情勢升級的動作時，需保持克制」，顯示東協並不願當面與中國針對南海議題進行討論與衝突。有關南海問題的說明，以下何者有誤？
 (A)中國與東協無貿易合作關係，衝突態勢高 (B)A、J 兩國認為中國侵犯專屬經濟海域
 (C)中國在珊瑚礁石上填海造陸，宣稱其主權 (D)臺灣管轄的東沙島和太平島位處此海域

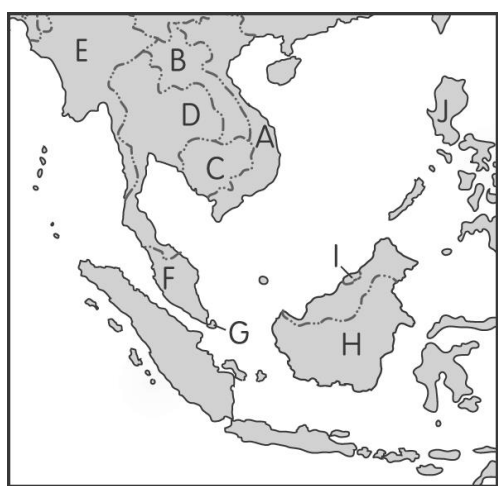


圖 (三)



圖 (四)



圖 (五)

- () 15、汶萊被譽為東南亞的杜拜，國民不必繳稅，社會福利完善，圖 (四) 是該國出口項目的比例。然而，基礎設施不足，觀光吸引力不如東南亞其他國家，農業也須仰賴進口。請問，汶萊可能面臨的危機是什麼？
 (A)人口老化，扶養負擔加重 (B)轉型緩慢，過度依賴能源出口
 (C)火山噴發，旅遊風險升高 (D)四面環海，海平面上升威脅大
- () 16、位在板塊交界的國家往往需要面對地震、海嘯等災害，如臺灣和日本。座落喜馬拉雅山下的尼泊爾，在 2023 年 11 月 3 日晚間發生規模 5.6 的地震，造成上百人傷亡。參考圖 (五)，尼泊爾地震的推論以下何者錯誤？
 (A)成因為印澳板塊與歐亞板塊推擠 (B)中國西南地區也有明顯感受
 (C)強烈西南風帶來暴雨，影響救災 (D)鄰近的印度東北亦傳出災情
- () 17、南亞被稱為是一獨立的次大陸，與下列何者無關？
 (A)山脈阻隔 (B)南臨印度洋 (C)從未被歐洲殖民 (D)以印度半島為主體
- () 18、孕育印度大平原眾多生命的兩條河流—印度河和恆河，提供流域範圍的灌溉與民生用水。位在平原西側的地區由於降水量少，更凸顯河流的重要性。請問，印度大平原西側少雨的原因為何？
 (A)季風微弱，高壓影響 (B)深居內陸，水氣偏少 (C)寒流流經，寒冷乾燥 (D)地勢低平，少地形雨

- ()19、阿瑋趁著寒假出國旅遊，他上網找到當地的氣候資料，如表（二）所示，已知該地座標為（19°N，72°E），且位在季風亞洲的範圍。有關該地的氣候特徵，以下何者最為正確？

(A)終年高溫多雨 (B)位於日本本州 (C)夏季盛行東南風 (D)屬熱帶季風氣候

表（二）

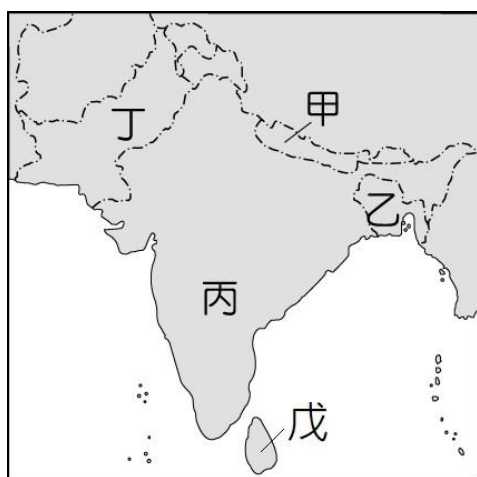
	1月	2月	3月	4月	5月	6月	7月	8月	9月	10月	11月	12月
月均溫(°C)	24.5	24.8	26.9	28.7	30.2	29.2	27.7	27.3	27.7	28.7	28	26.3
降水量(mm)	0	0	0	2	12	592	682	487	307	61	23	2

- ()20、自十九世紀中期以來，英國全面掌控印度半島，直至 1947 年後，印度才獨立建國。由於宗教文化的歧異，信仰伊斯蘭教的地區分裂出來形成另一國家—巴基斯坦，此時的巴基斯坦有一行政區相隔甚遠，稱作東巴基斯坦，即為後來的孟加拉。請問，上述提及的伊斯蘭教地區位在圖（六）中的何處？

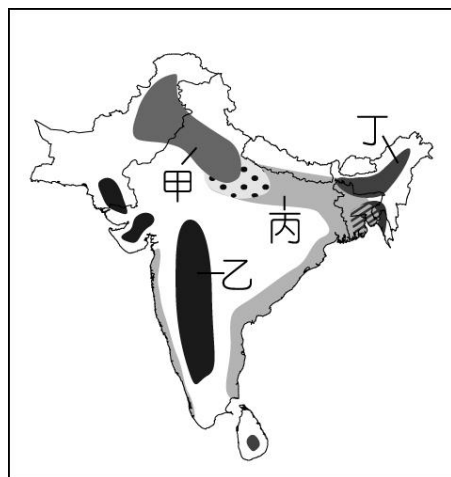
(A)甲、乙 (B)乙、丙 (C)乙、丁 (D)丁、戊

- ()21、茶是每個印度家庭不可或缺的一部分，對他們來說喝茶是一種生活方式。印度的主要茶產區位在圖（七）中何地？

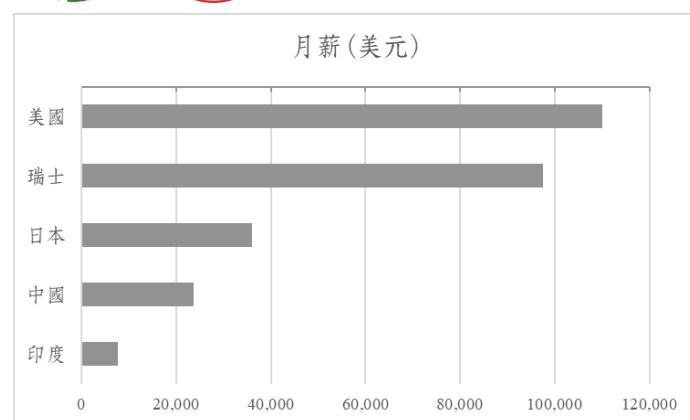
(A)甲 (B)乙 (C)丙 (D)丁



圖（六）



圖（七）



圖（八）

- ()22、印度 IT（資訊科技）產業發達，圖（八）為各國軟體工程師的薪資比較。請問，印度發展高科技工業有何優勢？

(A)勞動成本低 (B)基礎設施完善 (C)精通中文和日文 (D)與歐美國家無時差

- ()23、「印度在冬天一直都有嚴重的空汙困擾，在新德里舉行的板球對抗賽中，因為霧霾太嚴重，來訪的斯里蘭卡選手必須戴上口罩，甚至有球員出現嘔吐症狀，導致比賽中斷。戶外看板顯示當地 PM2.5 指數超過 400，已經達到危害等級。此外，來自西北的沙塵暴問題也愈趨嚴重，加劇首都地區的空氣品質惡化。」—以上節錄自民視新聞

(<https://ppt.cc/f7r0sx>) 與中央社 (<https://ppt.cc/fm8jux>)。造成印度空氣汙染的原因，以下何者有誤？

(A)工廠林立，化石燃料用量大 (B)東北季風吹拂，帶來境外汙染物
(C)人口稠密，車輛碳排放增加 (D)土壤鹽鹼化，荒漠土地範圍擴大

◎電視節目《移居世界秘境日本人好吃驚》中，節目組從東京出發，要尋找一位居住在泰國與柬埔寨邊界地區的日本女性。請回答 24-26 題：

- ()24、由於日本到柬埔寨沒有直飛班機，因此必須先到泰國曼谷轉機。工作人員花了 10 個小時才抵達柬埔寨，請問這架班機一開始的飛行路線為圖（九）中何者？

(A)甲 (B)乙 (C)丙 (D)丁

- ()25、節目組順利找到這位日本女性後，發現她會居住在這裡的原因是，想協助當地的孩童透過手工織品來賺取生活所需的金錢。柬埔寨的紡織、成衣業是經濟的重要基礎，占出口的 57%，以及國內生產總值的 80%。像是 H&M、adidas、Nike 等國際品牌皆有在此設廠製造。然而，許多工廠為了搶訂單、加快生產流程，經常違法雇用年僅 12 歲的孩童。這些孩子因為生活貧困而選擇輟學去工作，在被壓榨的狀況下，平均工資僅有一天 0.5 美元（約台幣 15 元）。有關上述柬埔寨的經濟發展，以下解讀何者最為正確？

(A)人口老化嚴重 (B)多勞力密集型產業 (C)出口額大於進口額 (D)第三級產業產值比例高



圖（九）

()26、節目工作人員在這趟旅程中，強烈感受到在異地偏鄉生活的不便，相當敬佩願意離鄉背井的這位日本女性。請問日本與柬埔寨的異同之處，下列敘述何者錯誤？

- (A)皆為季風氣候 (B)均位在板塊交界帶 (C)日本的人均 GDP 較高 (D)柬埔寨的鄉村推力較大

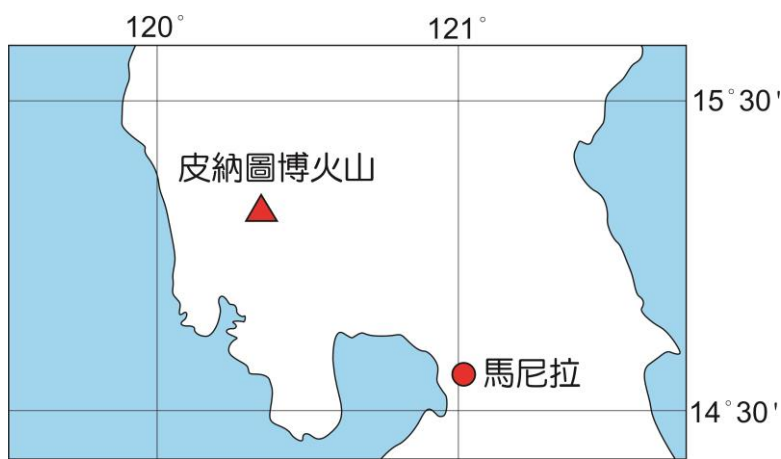
◎1991 年 6 月 16 日，皮納圖博火山（Mount Pinatubo）爆發，造成全球氣候出現異常，火山所在的國家損失數億美元。如今 30 多年過去，火山周圍已成綠草如茵的觀光名勝。請參考圖（十）並回答 27-28 題：

()27、某旅遊網站上介紹：「若想造訪皮納圖博火山，最佳的旅遊時間是在 11 月～5 月。雖然全年都有開放，但因為有大量的火山灰，若是在 6 月～9 月前往，易有泥石流或是土石流，危險性較高。如果發布颱風警告，一定要避免前往。」試問：該地在 6 月～9 月盛行的風向為何？

- (A)↗ (B)↘ (C)↖ (D)↙

()28、皮納圖博火山所在的國家，下列敘述何者正確？

- (A)接近赤道，屬熱帶雨林氣候 (B)曾受英國殖民，英語為官方語言
(C)北鄰臺灣，同屬於南島語族 (D)西側瀕臨南海，與印度半島相望



圖（十）

試題到此結束，請再檢查一遍。