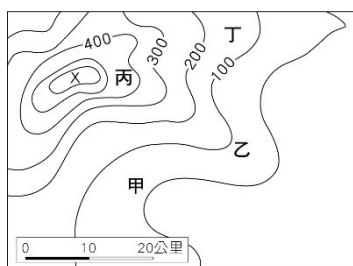


【單選題 01~18 題，3 分/題】

()01、「崎」是指地表的斜坡

面，若再加上和方位有關的形容詞，如頂、頭、腳等，就會出現「崎頂」、「崎腳」等地名。請問：在附圖的等高線地形圖中，哪一個聚落的名稱最有可能是「崎頂」？



(A)甲 (B)乙 (C)丙 (D)丁。

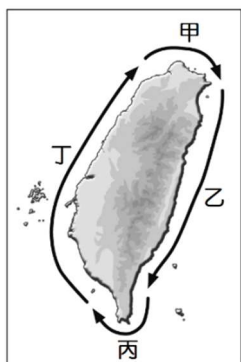
()02、明朝末年，官員上疏：「臺灣被紅毛所佔據，雞籠、淡水又有來自呂宋的佛郎機人」，並強調：

「從雞籠、淡水之地，只要一天就可抵達臺灣。」由此可知，當時的「臺灣」是指下列何地？ (A)基隆 (B)淡水 (C)安平 (D)恆春。

()03、臺灣地名的文化根源凸顯族群多元的地理特性，有來自原住民族、漢族和西洋、日本等外來族群的命名。請問：下列哪一個地名是源自於漢語？

(A)宜蘭縣羅東鎮 (B)新北市汐止區
(C)桃園市新屋區 (D)臺南市麻豆區。

()04、臺灣多樣的地形景觀，常常是聚落命名的主要參考，在附圖中的哪一段海岸可以看到比較多以「崙」（海邊沙丘）命名的聚落？



(A)甲
(B)乙
(C)丙
(D)丁。

()05、為了增加糧食生產，基因改造作物的產量愈來愈高。臺灣人因飲食習慣，幾乎每天都會接觸到豆腐、醬油和沙拉油等各式食品、配料。所以，臺灣人最常吃到的基因改造作物是 (A)黃豆 (B)玉米 (C)棉花 (D)油菜。

()06、現代農民在選擇種植的作物時，通常會優先考量下列哪一項因素？ (A)傳統習俗 (B)市場需求 (C)政府政策 (D)田地規模。

()07、目前國際社會對於是否接受基因改造作物，最主要的疑慮來自於下列何者？

(A)基因改造作物會降低生物的多樣性
(B)基因改造作物耗費更多珍貴水資源
(C)種植基改作物會導致社會財富分配不平均
(D)基改作物對環境和人體有不確定性的影響。

()08、臺灣各縣市的命名是由政府決定，請問附圖中哪一個縣市的名稱是基於方位而命名的？



(A)甲
(B)乙
(C)丙
(D)丁。

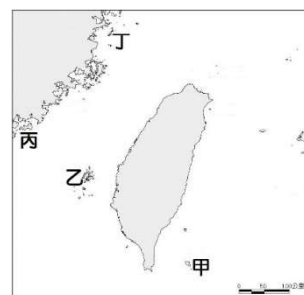
()09、住在嘉義的胖胖想在超級市場挑選食物里程較短的水果，下列何者是最佳選擇？ (A)屏東蓮霧 (B)彰化鳳梨 (C)臺東釋迦 (D)桃園水蜜桃。

()10、較於現代農業的生產方式，下列何者是臺灣傳統農業較少使用農藥和化學肥料的原因？

(A)田地上一年收穫 2~3 次
(B)田間多種作物混雜栽種
(C)每種植 2~3 年土地就休耕一年
(D)在田地上飼養牲畜收集畜肥。

()11、大航海時代，荷蘭人與西班牙人陸續在臺灣留下富貴角、三貂角等地名，依此地名中的「角」判斷，這些地名最有可能出現在臺灣哪一個區域內的海岸附近？ (A)北部 (B)西部 (C)南部 (D)東部。

()12、「據傳此島西南港口旁，是昔日孝女林默娘投海救父後漂流至此，居民將之厚葬並立廟奉祀，並把此地命名為媽祖沃，至今石棺板仍在廟中，後來國軍駐守此區，才改稱今日地名。」請問：文中所指地名是位於圖中何處？ (A)甲 (B)乙 (C)丙 (D)丁。



()13、蔡Y囁是個忙碌的上班族，因為三餐老是依賴外食，所以他有個「老外」綽號。最近他健康出了警訊，醫生建議他飲食應遠離食品添加劑。請問老外應選擇下列哪一食品較為健康？ (A)章魚丸 (B)煙燻火腿 (C)燙青菜 (D)旗魚鬆。

()14、高雄市新興區原本叫做「大港埔」，大港是指高雄河的支流，流過這片未經開發的地形，到了光復後才大為發展，也因為這新興的氣象，才由市民建議改名為新興區。請問：文中所指的地形，根據命名參照原則，最有可能為下列何者？ (A)平原 (B)盆地 (C)沙丘 (D)山崖。

()15、農委會設計「好兔要吃窩邊草，地產地消就是好」的標語，宣傳地產地消的好處，包括「產地直送、新鮮美味」、「長途運輸、耗費資源」、「國產標章溯源體系把關」等。請問：上述宣傳內容，主要在凸顯臺灣哪些農業發展方向？

㊶重視食材安全 ㊷鼓勵減碳消費觀
㊸開拓外銷市場 ㊹擴大經營規模

(A)甲乙 (B)甲丁 (C)乙丙 (D)丙丁。

()16、「農夫把鴨子養在田裡，鴨會吃害蟲，鴨糞又是良好肥料，鴨腳划水弄濁田水使得雜草不易發芽，鴨子在田裡走來走去刺激稻子往下紮根長得更強壯，」這就是所謂的「鴨稻」。請問：此種農法的生產方式，具有下列何種好處？

(A)不使用農藥和化肥 (B)降低農業生產複雜度
(C)提高生產效率及產量 (D)增強抗病蟲害能力

()17、臺南鹿耳社區主辦「重返北汕尾，模仿鄭成功登陸活動」，將三百多年前大將軍延平郡王率軍登陸的活動，以傳統民俗藝陣呈現給國內外人士了解。請問：今日模仿文化活動只能在陸地表演，而非昔日的海上路線，最主要的原因是受到下列哪一個因素影響？ (A)岩漿噴發淹沒台江 (B)地層陷落出現內海 (C)泥沙淤積潟湖陸化 (D)土石崩落中斷道路。

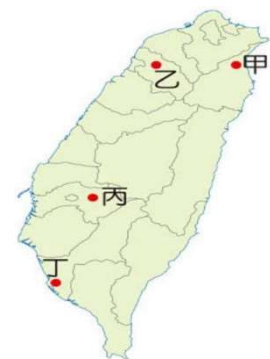
- () 18、目前常見於市面上的高麗菜，是於 1950 年代由日本引進臺灣的品種——「初秋」其最佳生長溫度為 16~22 度。下列哪一個地點最可能是臺灣夏季高麗菜主要的產地？(A)甲 (B)乙 (C)丙 (D)丁。



【題組一 第 19~21 題，3 分/題】

柿餅是臺灣某地區常見的傳統美食，由於柿子盛產的時節約在每年 9~11 月，當地客家人除了食用新鮮的柿子外，也會利用當地著名的九降風與陽光，將剩下的柿子進行風乾和曬乾，製作柿餅以供日後食用。

- () 19、依據上文敘述判斷，柿餅的製作地區，位於右圖何處？
(A)甲 (B)乙
(C)戊 (D)己。



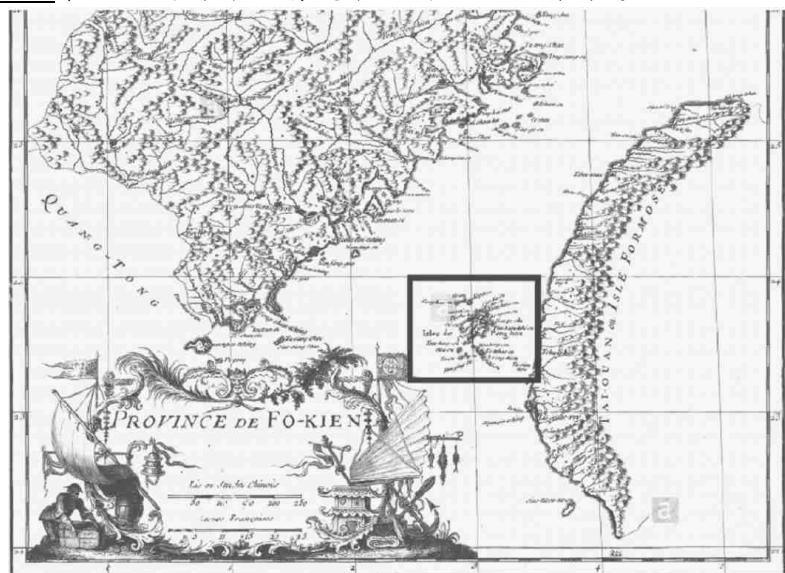
- () 20、上文中所指「九降風」其風向應為何者？ (A) ☐ (B) ☒ (C) ☒ (D) ☒。

- () 21、早期當地客家人製作柿餅的主要理由是

- (A)外銷賺取外匯 (B)方便保存食物
(C)增加就業機會 (D)不用冰箱節省電費。

【題組二 第 22~25 題，3 分/題】

下圖是法國人杜赫德在 1735 年（雍正年間）所繪製的中國東南地圖局部。請觀察地圖回答下列問題：



- () 22、此圖的圖名應該是？ (A)廣東省 (B)浙江省
(C)福建省 (D)海南省。
() 23、圖中方框處最可能是臺灣的哪個地區？
(A)澎湖 (B)金門 (C)馬祖 (D)綠島。
() 24、「TAI-OUAN」一詞出現在臺灣島西半部與山脈交界處，其義與何者相關？ (A)讀音近似「大員」
(B)局限於現今桃園地區 (C)此名源自日治時期
(D)是美麗之島的意思。
() 25、此圖並未繪出臺灣目前哪一縣市？ (A)苗栗
(B)台中 (C)高雄 (D)台東。

【題組三 第 26~28 題，3 分/題】

請閱讀下文，再回答問題：

「身土不二」源於中國的佛典。主要的意思是：我們和環境沒有分別，每個人都是環境的一部分，同時也被環境滋養。我們吃的食物，每一口飯菜的背後就像一張密密麻麻的網，從食物的源頭連結許多人、事、物的付出。正在吃的我們，是用什麼樣的態度吃？以及如何回饋這片土地？其實是很重要的事。因為我們和環境，是共生共存的。

近代日本與韓國都曾以「身土不二」作為支持本土生產食物的口號。在臺灣，也有一些友善農場或採用良善食材的店家，運用它來表達自身態度。臺灣推動有機友善耕作的經驗已超過三十年，若從種植起就思考與環境友善共存，以公平合理的價格銷售，並且照顧消費者健康，就是「身土不二」的生活實踐。

上文引述自「身土不二，從吃開始」（遠流出版社）

- () 26、下列何者作法與「身土不二」理念最貼切？
(A)國際分工、全球化 (B)地產地消、友善人地
(C)食材多樣、精緻化 (D)大量生產、專業耕作。
() 27、下列何者食物來源最符合「身土不二」精神？
(A)施打抗生素減低致病風險
(B)進口高價珍稀食材
(C)基因改造抗病作物
(D)有機栽種、生物防治。
() 28、下列何者並非「身土不二」理念的優點？
(A)減少溫室氣體排放 (B)降低依賴化石燃料
(C)專業化生產降低成本 (D)少用肥料與農藥。

【配合題 第 29~36 題，2 分/題】

請將下列縣市名稱，與該地名釋義進行配對。

	地名釋義代號
() 29、新竹	(A)清皇帝嘉許縣民所賜。
() 30、金門	(B)形勢強固，鎮守海域。
() 31、嘉義	(C)源於平埔族部落的社名。
() 32、桃園	(D)移民遍植該植物而得名。

【配合題 第 33~36 題，2 分/題】

請將下列鄉鎮市名稱，與該地特產進行配對。

	特產代號
() 33、屏東縣林邊鄉	(A)仙草
() 34、宜蘭縣三星鄉	(B)豆干
() 35、桃園市大溪區	(C)蓮霧
() 36、新竹縣關西區	(D)青蔥